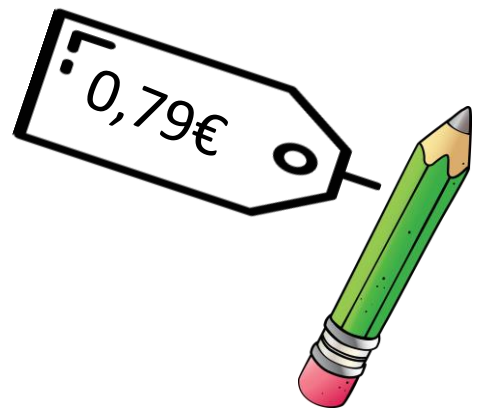




# APRENDAMOS A TRABAJAR CON MONEDAS

Observa el dibujo, teniendo en cuenta su precio, ¿qué monedas de las siguientes deberé utilizar y cuántas de cada clase usaré?


Hay diferentes combinaciones de monedas, escriba al menos dos de ellas.



- \_\_\_\_\_  
\_\_\_\_\_
- \_\_\_\_\_  
\_\_\_\_\_

Observa el dibujo, teniendo en cuenta su precio, ¿qué monedas de las siguientes deberé utilizar y cuántas de cada clase usaré?


Hay diferentes combinaciones de monedas, escriba al menos dos de ellas.



- \_\_\_\_\_  
\_\_\_\_\_
- \_\_\_\_\_  
\_\_\_\_\_

Observa el dibujo, teniendo en cuenta su precio, ¿qué monedas de las siguientes deberé utilizar y cuántas de cada clase usaré?

Hay diferentes combinaciones de monedas, escriba al menos dos de ellas.



- \_\_\_\_\_  
\_\_\_\_\_
- \_\_\_\_\_  
\_\_\_\_\_

Observa el dibujo, teniendo en cuenta su precio, ¿qué monedas de las siguientes deberé utilizar y cuántas de cada clase usaré?

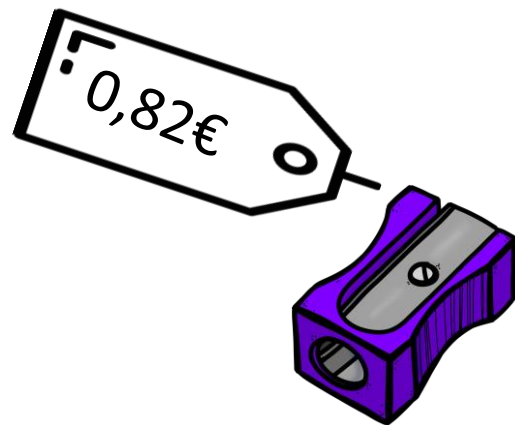
Hay diferentes combinaciones de monedas, escriba al menos dos de ellas.



- \_\_\_\_\_
- \_\_\_\_\_

Observa el dibujo, teniendo en cuenta su precio, ¿qué monedas de las siguientes deberé utilizar y cuántas de cada clase usaré?


Hay diferentes combinaciones de monedas, escriba al menos dos de ellas.



- \_\_\_\_\_  
\_\_\_\_\_
- \_\_\_\_\_  
\_\_\_\_\_

Observa el dibujo, teniendo en cuenta su precio, ¿qué monedas de las siguientes deberé utilizar y cuántas de cada clase usaré?


Hay diferentes combinaciones de monedas, escriba al menos dos de ellas.



- \_\_\_\_\_  
\_\_\_\_\_
- \_\_\_\_\_  
\_\_\_\_\_

Observa el dibujo, teniendo en cuenta su precio, ¿qué monedas de las siguientes deberé utilizar y cuántas de cada clase usaré?

Hay diferentes combinaciones de monedas, escriba al menos dos de ellas.




- \_\_\_\_\_  
\_\_\_\_\_
- \_\_\_\_\_  
\_\_\_\_\_



Observa el dibujo, teniendo en cuenta su precio, ¿qué monedas de las siguientes deberé utilizar y cuántas de cada clase usaré?


Hay diferentes combinaciones de monedas, escriba al menos dos de ellas.



- \_\_\_\_\_
- \_\_\_\_\_

Observa el dibujo, teniendo en cuenta su precio, ¿qué monedas de las siguientes deberé utilizar y cuántas de cada clase usaré?

Hay diferentes combinaciones de monedas, escriba al menos dos de ellas.



- \_\_\_\_\_
- \_\_\_\_\_

Observa el dibujo, teniendo en cuenta su precio, ¿qué monedas de las siguientes deberé utilizar y cuántas de cada clase usaré?

Hay diferentes combinaciones de monedas, escriba al menos dos de ellas.



- \_\_\_\_\_  
\_\_\_\_\_
- \_\_\_\_\_  
\_\_\_\_\_